

Khởi
động









TRÁI ĐẤT ĐANG BỊ XÂM
CHIẾM! HÃY CÙNG NHAU
ĐÁNH BẠI QUÁI VẬT ĐỂ
GIÁI CỨU THẾ GIỚI NHÉ

PLAY GAME!

Học tiếp



#1 VICTORY ROYALE



$$8 \times 6 = ?$$



A. 48

C. 54



B. 50

D. 46



Một hộp kem có 8 que kem. Hỏi 3 hộp như vậy có bao nhiêu que kem?

 A. 18

 C. 22

B. 32

D. 24



Biết số bị chia là 72, số chia là 8. Tìm thương của phép chia

A. 7

C. 6

B. 8

D. 9



$$8 \times 9 = ?$$



A. 72

C. 81



B. 90

D. 64



Thứ năm ngày 9 tháng 10 năm 2025



BẢNG NHÂN 9, BẢNG CHIA 9





Khám phá



Mỗi đội múa rồng có 9 người. Hỏi 2 đội múa rồng có bao nhiêu người?



$$9 \times 2 = ?$$

$$9 + 9 = 18$$

$$9 \times 2 = 18$$

$$18 : 9 = 2$$



Hoàn thành bảng nhân 9, chia 9

Thảo luận
nhóm đôi



$9 \times 1 = 9$

$9 \times 2 = 18$

$9 \times 3 = 27$

$9 \times 4 = 36$

$9 \times 5 = 45$

$9 \times 6 = 54$

$9 \times 7 = 63$

$9 \times 8 = 72$

$9 \times 9 = 81$

$9 \times 10 = 90$

$9 : 9 = 1$

$18 : 9 = 2$

$27 : 9 = 3$

$36 : 9 = 4$

$45 : 9 = 5$

$54 : 9 = 6$

$63 : 9 = 7$
















$72 : 9 = 8$

$81 : 9 = 9$

$90 : 9 = 10$

Bảng nhân 9



9	x	1	=	
9	x		=	
9	x	3	=	
9	x		=	
9	x	5	=	
9	x		=	
9	x	7	=	
9	x		=	
9	x	9	=	
9	x		=	

Bảng chia 9



$$\begin{array}{l} 9 : \text{strawberry} = 1 \\ 18 : 9 = \text{strawberry} \\ \text{strawberry} : 9 = 3 \\ 36 : \text{strawberry} = 4 \\ 45 : 9 = \text{strawberry} \\ 54 : \text{strawberry} = 6 \\ \text{strawberry} : 9 = 7 \\ 72 : \text{strawberry} = 8 \\ 81 : 9 = \text{strawberry} \\ \text{strawberry} : 9 = 10 \end{array}$$

1 Tính nhẩm

a) $9 \times 1 = 9$

$9 \times 4 = 36$

$9 \times 7 = 63$

b) $9 \times 2 = 18$

$9 \times 5 = 45$

$9 \times 8 = 72$

c) $9 \times 3 = 27$

$9 \times 6 = 54$

$9 \times 9 = 81$

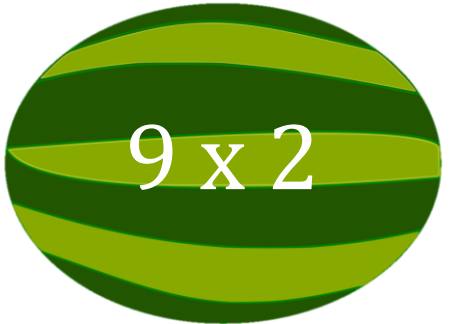
d) $9 \times 10 = 90$

$9 \times 0 = 0$

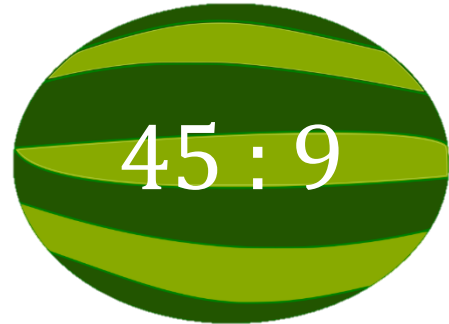
$0 \times 9 = 0$



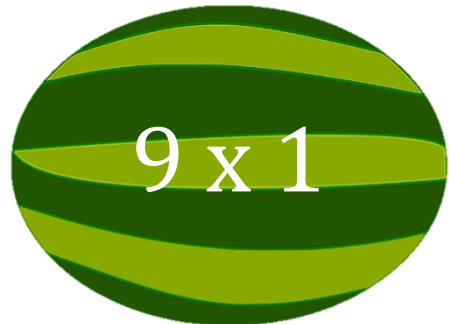
2 Hai phép tính nào dưới đây có cùng kết quả?



9×2



$45 : 9$



9×1



$54 : 9$



$20 : 4$



2×3



3×6



$18 : 2$




A circular logo with a pink border. At the top, the name 'HƯƠNG THẢO' is written in a pink arc. In the center is a QR code. Below the QR code, the text 'ZALO: 0972.115.126' is displayed. Underneath that, it says 'Liên hệ trực tiếp em qua ZALO trên để tránh nhầm lẫn nick giả mạo'. At the bottom, 'BÀI GIẢNG ĐIỆN TỬ' is written in a pink arc.






$$72 : 9 = 8$$


$$45 : 9 = 5$$

QUÁI VẬT NHẢY




$$9 \times 9 = 81$$


$$9 \times 4 = 36$$




Tạm biệt và
hẹn gặp lại

